

# Sverige i siffror

Snabba och enkla fakta med övningar  
för dig som läser SFI

SCB






# Innehåll

SCB beskriver Sverige med statistik.....	4
Människorna i Sverige.....	6
Utbildning, jobb och pengar.....	14
Samhällets ekonomi.....	20
Facit.....	27

Statistiska centralbyrån (SCB) är en statlig myndighet. Vår uppgift är att ta fram och sprida statistik. Vi gör det på uppdrag av regering och riksdag. Vår statistik används som underlag till beslut, forskning och debatt. All officiell statistik finns på [www.scb.se](http://www.scb.se).

Källan till statistiken i detta häfte är från SCB. Statistiken är från 2017 och 2018

- 
-  [statistiska\\_centralbyran\\_scb](#)
  -  [@scb\\_nyheter](#)
  -  [statistiskacentralbyranscb](#)
- 

## Fråga oss om statistik!

Statistikservice  
**Telefon:** 010-479 50 00  
**E-post:** [information@scb.se](mailto:information@scb.se)

---

**Postadress:**  
SCB, Box 24300, 104 51 Stockholm

**Besöksadress:**  
Karlavägen 100, Stockholm  
Klostergatan 23, Örebro

---

ISBN: 978-91-618-1661-3  
Tryckt i Sverige  
Åtta.45 Tryckeri AB, Stockholm 2019.08

# SCB beskriver Sverige med statistik

Statistik är viktig för samhället. Den berättar om nutiden, dåtiden och framtiden. Med hjälp av statistik kan du kontrollera fakta. Statistik finns till för alla som är intresserade eller som behöver statistik i sitt arbete, till exempel studenter, politiker, forskare och journalister.



## Statistik är viktigt för samhället

Statistik kan visa hur det är nu, till exempel hur många som heter Andersson i efternamn och vilken grönsak som ökar mest i pris. Statistik kan visa hur något var i Sverige förr i tiden, till exempel vad människor arbetade med. Det finns också statistik som visar vad som kan hända i framtiden, till exempel hur många barn som kommer att födas.

## Så gör SCB statistik

Statistikmyndigheten SCB ställer frågor och samlar in svar. Ibland skickar vi frågorna på papper. Ibland ringer vi och ställer frågor. Våra statistiker arbetar sedan med svaren och räknar fram statistik. Svaren visas ofta i tabeller eller diagram. Ingen som arbetar på SCB berättar för någon vad du har svarat. Alla som arbetar med frågorna har tystnadsplikt.

Varje år svarar 700 000 personer på frågor från SCB. Det är viktigt att alla svarar när SCB ställer frågor. Vi frågar många vuxna personer som bor i Sverige, inte bara svenska medborgare.

I lagen står att statistiken ska delas upp efter kön. Det betyder att du kan se i statistiken om det finns skillnader mellan kvinnor och män, till exempel i statistiken om yrken och löner.

## Alla kan ta del av statistiken

SCB använder statistik för att berätta om samhället. Statistiken ska vara korrekt. Den ska också vara lätt för alla att hitta och förstå. Politiker använder statistik ibland när de ska bestämma om framtiden, till exempel för att planera hur många skolor kommunen ska bygga. Statistiken över hur många treåringar som bor där gör att de förstår ungefär hur många skolor som behövs i framtiden.

SCB är en statlig myndighet. Vi säger aldrig vad vi tycker om något. Vi berättar vad vi vet med hjälp av siffror, tabeller och diagram.

SCB:s statistik är till för alla. Du kan hitta mer statistik på [www.scb.se](http://www.scb.se)

## Övningar

### 1. Sant eller falskt?

Skriv S (sant) eller F (falskt) efter meningen.

- A. SCB arbetar med statistik.
- B. SCB:s statistik är dyr att köpa.
- C. Statistik kan bara visa hur det var förr i tiden.
- D. Bara svenska medborgare får frågor från SCB.
- E. SCB:s statistik ger korrekt information med siffror.

### 2. Berätta och diskutera

Fråga och svara varandra i par. Svara vad du tror, vet eller tycker. *Exempel: Vilket väder blir det i morgon? Jag tror att vädret blir soligt.*

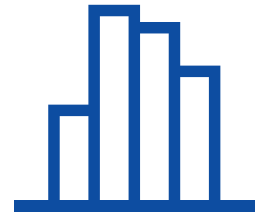
- Vad heter Sveriges huvudstad?
- Vad heter Sveriges näst största stad?
- Vem är Sveriges bästa fotbollsspelare?
- Vad är bra i Sverige?

### 3. Ordkunskap

Välj det ord eller de ord som passar i meningen.

*diagram, frågor, SCB, siffror, tabeller, tystnadsplikt*

- A. .... arbetar med att ta fram statistik.
- B. Statistik är att beskriva något med .....
- C. SCB ..... många människor varje år.
- D. Svaren syns i ..... och .....
- E. De som arbetar på SCB har .....



02

## Människorna i Sverige

Sveriges befolkning har vuxit mycket sedan SCB började räkna folkmängden för över 260 år sedan. Hur snabbt befolkningen växer beror på hur många som föds, dör, invandrar och utvandrar.

I mitten av 1700-talet bodde det knappt 2 miljoner människor i Sverige. Redan då hade SCB börjat med statistik. Därför vet vi hur många som bodde i Sverige då. Sverige hade 2018 mer än 10 miljoner invånare.

### 1767: 2 miljoner

Sverige hade 2 miljoner invånare 1767. Många dog av hunger och sjukdomar och det föddes få barn. Därför minskade befolkningen i några år. Sju år senare var befolkningen över 2 miljoner igen.

### 1863: 4 miljoner

Under 1800-talet föddes många barn och fler barn överlevde. Människorna levde också längre än på 1700-talet. Varannan person blev 60 år. Hundra år tidigare blev bara var tredje person 60 år. Många svenskar utvandrade till Amerika.

### 1923: 6 miljoner

I början av 1900-talet växte industrierna och fler fick jobb. Människorna stannade kvar i landet istället för att utvandra till Amerika. Det föddes också många barn.

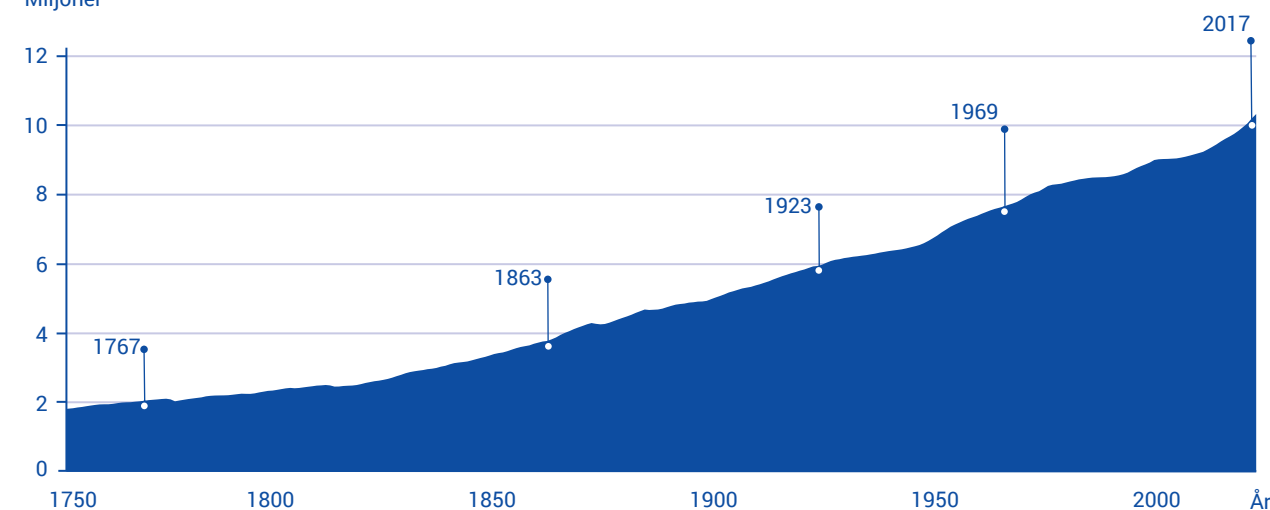
### 1969: 8 miljoner

Sverige behövde arbetskraft från andra länder. Många invandrade från Norge, Finland, dåvarande Jugoslavien och Tyskland för att jobba. Ovanligt många barn föddes. Sverige hade 8 miljoner invånare.

### 2017: 10 miljoner

Befolkningen ökade snabbare än tidigare. 2004 var befolkningen 9 miljoner. På 13 år, mellan 2004 och 2017, ökade befolkningen med 1 miljon till 10 miljoner invånare. Sverige har kanske 11 miljoner invånare 2028.

Miljoner



## Sveriges befolkning växer

Sveriges befolkning ökade 2018 med 109 943 personer. Att vi blir fler beror på att det föds fler människor än det dör. Det beror också på att det invandrar fler personer till Sverige än som utvandrar. Alla personer med uppehållstillstånd är med i statistiken.

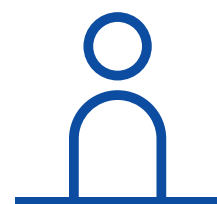
+ Invandring  
- Utvandring  
+ Födda  
- Döda  
= Befolkningsförändring

# +109 943

**Flest utvandrade till Danmark**  
Det var 46 981 personer som utvandrade från Sverige. Grannlandet Danmark var det vanligaste landet att utvandra till. Dit utvandrade 3 856 personer.



### Invandring till Sverige (vanligaste födelseländerna)



# 132 602

personer invandrade till Sverige

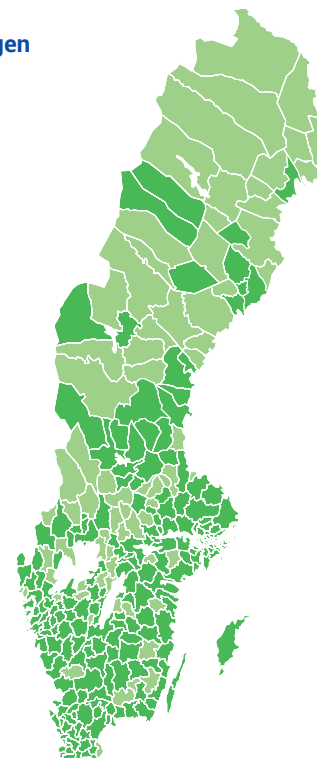
# 71%

kommer från dessa 10 länder →

Syrien 22 327	Afghanistan 9 297	Irak 7 236
Sverige 14 428	Indien 5 717	Iran 4 264
	Polen 4 405	Eritrea 3 991
	Somalia 2 979	Kina 2 871

### Förändring av befolkningen i svenska kommuner

■ Folkökning  
■ Folkminskning




### De mest populära namnen på nyfödda flickor och pojkar

1. Alice / William
2. Alicia / Oscar
3. Olivia / Liam

# 235 299

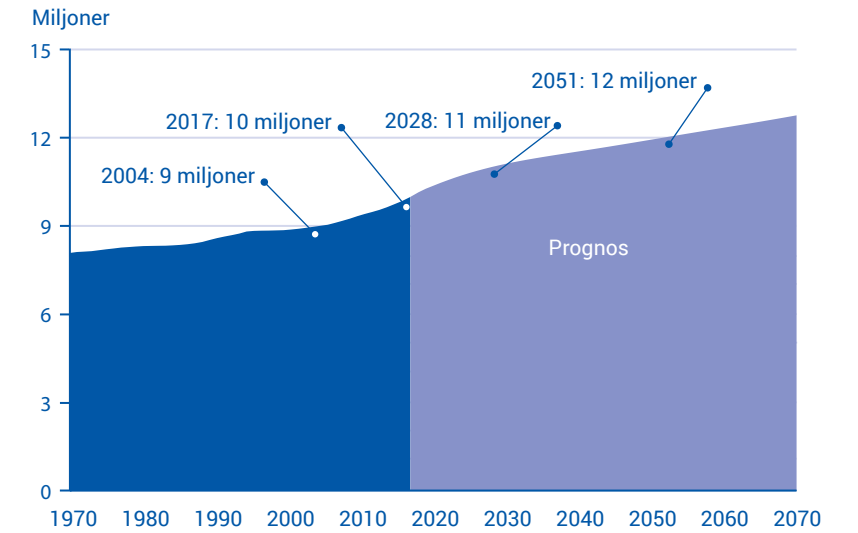
personer heter Andersson i efternamn.

Sök på ditt eget namn och få reda på hur många som heter som du!  
[www.scb.se/namnsok](http://www.scb.se/namnsok)



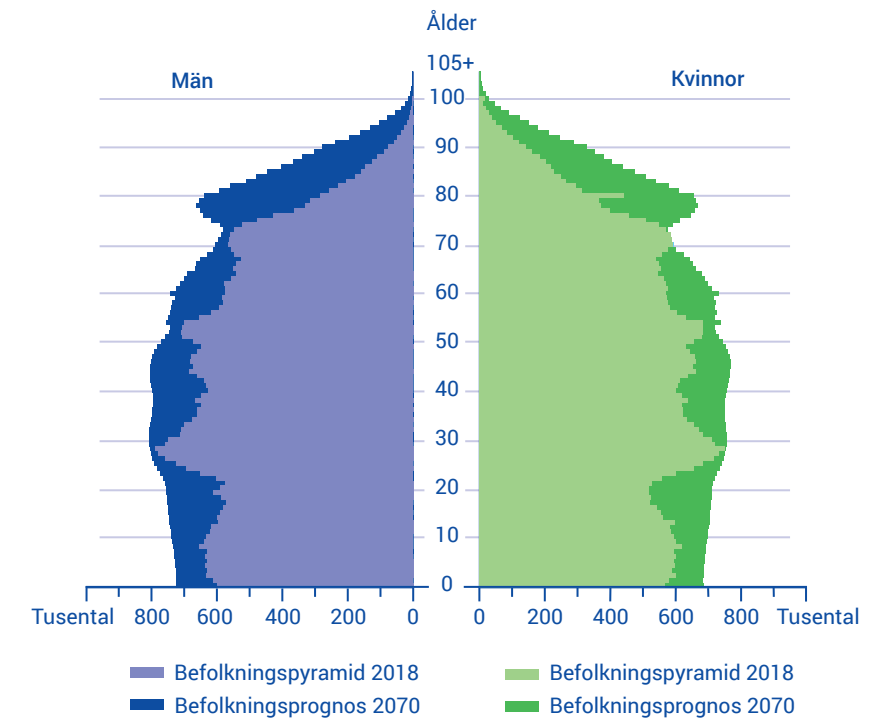
### 2070 blir vi 13 miljoner

En prognos är att försöka förklara hur det ska bli i framtiden. SCB:s statistiker har gjort en prognos för befolkningen i Sverige. Prognosen är att Sverige kommer att ha 11 miljoner invånare 2028, 12 miljoner invånare 2051 och 13 miljoner invånare 2070.



### Andelen äldre ökar mest

Ett sätt att visa statistik är med en befolkningspyramid. Den visar hur många personer i befolkningen som är i olika åldrar, till exempel hur många tusen män som är 40 år och hur många tusen kvinnor som är 70 år. Statistiken visar att det blir fler äldre personer i Sverige. 2018 var nästan var femte person över 65 år. 2070 kommer var fjärde invånare i Sverige att vara över 65 år.



# Övningar



## 1. Grammatik

Skriv verben i då-tid (preteritum).

- A. SCB (börjar) ..... med statistik för över 260 år sedan.
- B. I mitten av 1700-talet (bor) ..... 2 miljoner människor i Sverige.
- C. På 1700-talet (dör) ..... många av hunger och sjukdomar.
- D. Därför (minskar) ..... befolkningen.
- E. 1863 (har) ..... Sverige 4 miljoner invånare.
- F. Människorna på 1800-talet (lever) ..... längre än på 1700-talet.
- G. I början av 1900-talet (får) ..... fler människor jobb.
- H. Ovanligt många barn (föds) ..... i slutet av 1960-talet.
- I. 2017 (har)..... Sverige 10 miljoner invånare.
- J. Befolkningen (ökar) ..... snabbare än tidigare.

## 2. Sant eller falskt?

Skriv S (sant) eller F (falskt) efter meningens.

- A. Befolkningen minskade några år på 1770-talet.
- B. Människor levde längre på 1700-talet än på 1800-talet.
- C. Många i Sverige utvandrade till Amerika på 1920-talet.
- D. Många invandrade till Sverige i slutet av 1960-talet.
- E. Prognosen för befolkningen är 11 miljoner invånare 2028.

## 3. Berätta och diskutera

Fråga och svara varandra i par. Svara vad du tror, vet eller tycker.

*Exempel: Vilket födelseland var det vanligaste bland alla som invandrade 2018? Jag vet att det är Syrien.*

- Från vilka världsdelar kom de flesta som invandrade 2018?
- Från vilka länder kommer de flesta invandrare nästa år?
- Varför finns personer som är födda i Sverige med i statistiken?
- Varför är Danmark det vanligaste landet att utvandra till?
- Blev du förvånad över något i statistiken?

## 4. Sant eller falskt?

Titta på befolkningspyramiden på sidan 11. Skriv S (sant) eller F (falskt) efter meningens.

- A. Siffrorna i mitten av diagrammet visar tusental.
- B. Blå färg visar statistiken för kvinnor.
- C. Mörka färger visar en prognos för 2070.
- D. Det kommer att finnas ungefär lika många 90-åriga män som kvinnor 2070.

## 5. Grammatik

Svara vilken ordklass det understrukna ordet tillhör (adjektiv, substantiv eller verb).

- A. Ett sätt att visa statistik är med en befolkningspyramid.
- B. Den visar hur många personer i befolkningen som är i olika åldrar.
- C. Statistiken visar att det blir fler äldre personer i Sverige.
- D. 2018 var nästan var femte invånare över 65 år.
- E. 2070 kommer var fjärde person i Sverige att vara över 65 år.

## 6. Berätta och diskutera

Fråga och svara varandra i par. Svara vad du tror, vet eller tycker.

- Varför lever kvinnor i Sverige längre än män?
- Varför ökar andelen äldre i Sverige?
- Vad behövs i ett samhälle när det blir fler äldre personer?
- Hur är det i ditt födelseland?
- Blev du förvånad över något i statistiken?

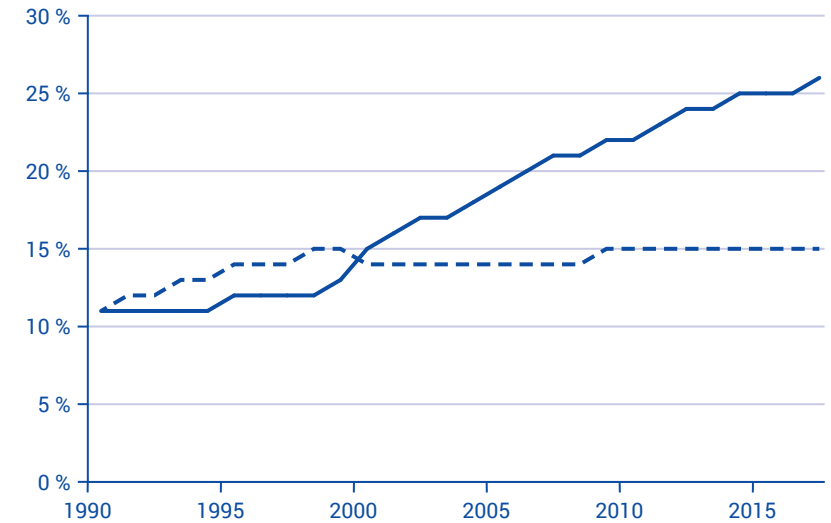
## Utbildning, jobb och pengar

Arbetsmarknaden förändras hela tiden. Vad vi jobbar med och vilken utbildning vi har ser ut på ett annat sätt jämfört med för några årtionden sedan. Hur mycket du tjänar beror på vad du jobbar med och om du är ung, gammal, man eller kvinna.

### Fler studerar längre

Flera i Sverige har hög utbildning än tidigare. 1990 hade var tionde person studerat i tre år eller mer efter gymnasiet. Nu har var tredje person över 25 år studerat så länge. De flesta som studerar på universitet och högskolor är kvinnor.

- Utbildning efter gymnasiet, tre år eller mer
- - Utbildning efter gymnasiet, mindre än tre år



# 55 %

Det är 55 procent fler kvinnor som studerar vid svenska universitet och högskolor jämfört med män. Under läsåret 2017/18 studerade 248 000 kvinnor och 158 000 män på någon utbildning på grundnivå eller avancerad nivå.

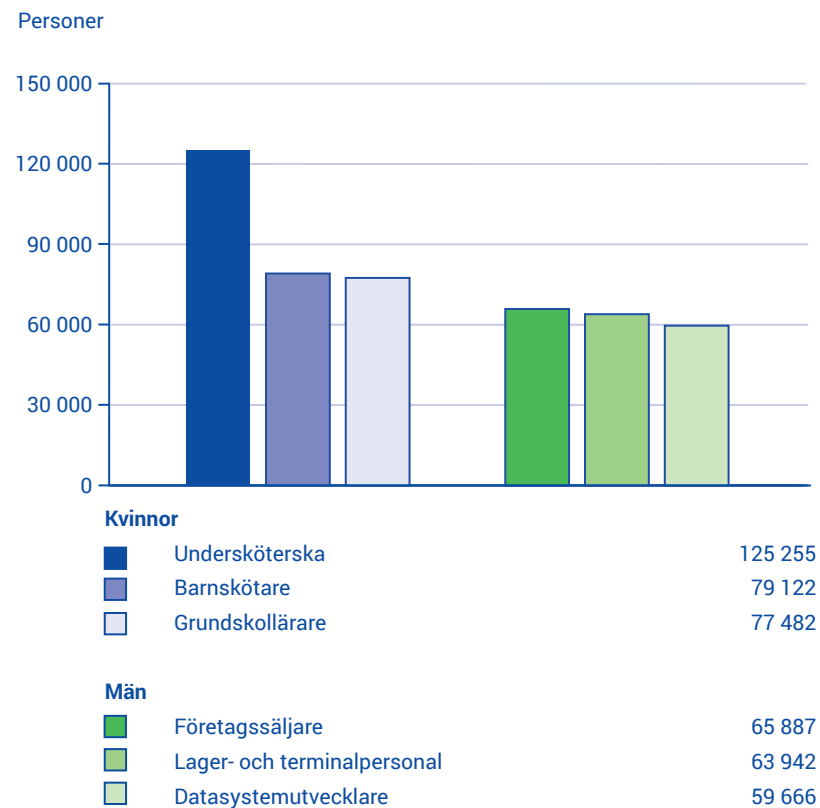




## Vanliga yrken

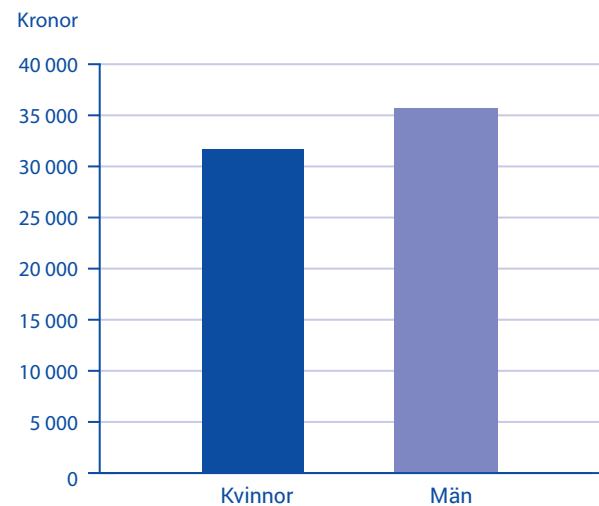
### Vanligaste yrket bland kvinnor och män

Undersköterska är det vanligaste yrket bland kvinnor. En undersköterska arbetar till exempel i hemtjänsten eller på ett äldreboende. Det är nästan bara kvinnor som har det yrket. 92 procent av alla undersköterskor är kvinnor. Många kvinnor jobbar också som barnskötare på förskolor. Bland män är företagssäljare det vanligaste yrket. En företagssäljare säljer varor och tjänster till andra företag, till exempel mobilabonnemang. Lagerpersonal tar emot varor som kommer till ett lager och skickar till butiker och kunder.



### Kvinnor har 89 procent av mäns lön

Kvinnorna tjänade 89 procent av vad männen tjänade 2018. Skillnaden i lön var 11 procent. En del av skillnaden kan bero på att kvinnor och män har olika yrken. Det kan också bero på olika utbildning eller arbetstid.



Medellön i Sverige  
2018

# 34 600 kr

i månaden

Kvinnor tjänade

## 32 600 kr

i medellön per månad

Män tjänade

## 36 500 kr

i medellön per månad

## Övningar



### 1. Sant eller falskt

Skriv S (sant) eller F (falskt) efter meningen.

- A. Blå färg i diagrammet (sid 15) visar de som har studerat minst tre år efter gymnasiet.
- B. Grön färg visar de som har studerat mindre än tre år efter gymnasiet.
- C. 1993 hade drygt 10 procent studerat minst tre år efter gymnasiet.
- D. 2017 hade drygt 25 procent studerat minst tre år efter gymnasiet.

### 2. Berätta och diskutera

Fråga och svara varandra i grupper. Svara vad du tror, vet eller tycker.

- Varför är det mest kvinnor som studerar på universitet och högskolor i Sverige?
- Hur är fördelningen mellan kvinnor och män på universitet i ditt födelseland?
- Är det något du vill studera eller utbilda dig till efter SFI? Om ja, vad?

### 3. Ordkunskap

Välj det ord som passar i meningen.

*barnskötare, företagssäljare, grundskollärare, lagerpersonal, undersköterska*

- A. Det vanligaste yrket bland kvinnor är .....
- B. Det näst vanligaste yrket bland kvinnor är .....
- C. Det vanligaste yrket bland män är .....
- D. Det är vanligare bland män att vara ..... än data-systemutvecklare.
- E. Det är fler kvinnor som är ..... än män som är företagssäljare.

### 4. Berätta och diskutera

Fråga och svara varandra i par. Svara vad du tror, vet eller tycker.

- Varför är det bara 8 procent män som är undersköterskor i Sverige?
- Är det något yrke där det nästan bara är män eller nästan bara kvinnor? Om ja, vilka yrken?
- Vilket yrke i ditt födelseland är vanligt bland män respektive kvinnor?

### 5. Sant eller falskt?

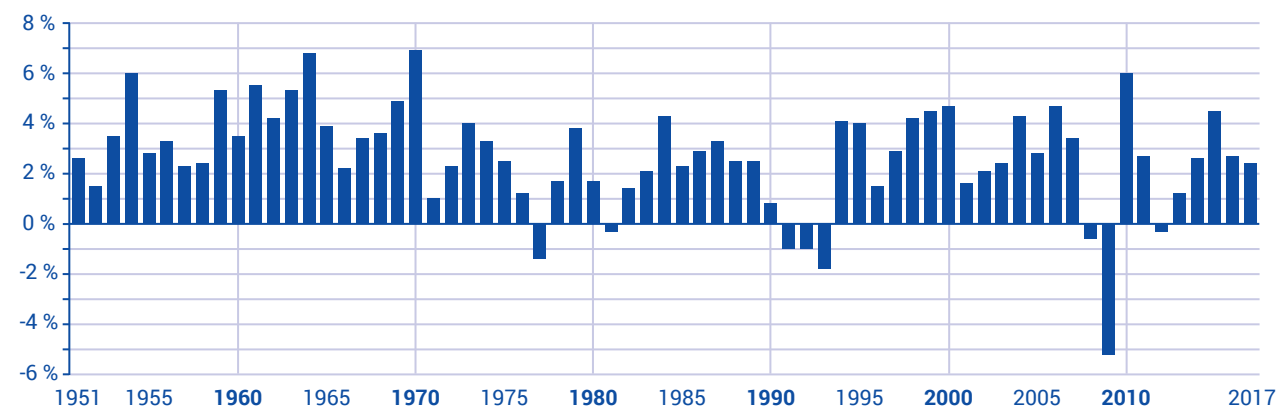
Skriv S (sant) eller F (falskt) efter meningen.

- A. Statistiken om månadslön är från 2018.
- B. Kvinnor och män tjänade i genomsnitt lika mycket i månaden.
- C. Kvinnorna tjänade i genomsnitt 89 procent mer i månaden än männen.
- D. Anställda i Sverige tjänade i genomsnitt 35 700 kronor i månaden.
- E. Skillnaden i lön kan bero på att könen ofta har olika yrken.

# Samhällets ekonomi

Hur det går med Sveriges ekonomi brukar mätas med bruttonationalprodukten, BNP. Den berättar inte bara om storleken på ett lands ekonomi utan även hur ett land har utvecklats. BNP är summan av allt som produceras i ett land.

Sveriges ekonomi har ökat och minskat



## BNP tillväxt 1950–2017

Tillväxt är något som växer och blir större. BNP är värdet av varor och tjänster som ett land producerar under ett år. Varor är till exempel kläder och möbler. Tjänster får vi bland annat hos frisörer och på restauranger. BNP minskar när människor har mindre pengar att köpa varor och tjänster för. Det gör att företagen minskar sin produktion.

## 1960-talet

Andra världskriget slutade 1945. Mycket var förstört i Europa och många länder behövde bygga nya hus. Svensk industri fick mycket att göra och producerade maskiner till flera länder. Mellan åren 1960–1965 växte BNP med i genomsnitt 5 procent per år.

## 1970-talet

Priset på olja blev dyrare och lönerna blev högre. Det gjorde att det blev dyrare för svensk industri att

producera. Sverige fick en ekonomisk kris och BNP minskade.

## 1990-talet

Att investera är att köpa något man vill tjäna pengar på i framtiden. En ekonomisk kris gjorde att utländska investerare valde att investera i andra länder än Sverige. BNP minskade mellan 1991–1994.

## 2000-talet

Banker, länder och människor lånade pengar och hade höga skulder. I många länder blev det en ekonomisk kris. 2009 minskade BNP med över 5 procent.

## 2010-talet

Sveriges ekonomi blev bättre efter krisen på 2000-talet. Mellan 2015–2017 ökade BNP med 2,7 procent. 2018 var BNP 47 898 53 miljarder kronor, en ökning med 2,1 procent jämfört med året innan.

## Arbetslösheten i Sverige

SCB undersöker hur många i Sverige som är arbetslösa. Därför ringer SCB till mer än 29 500 personer varje månad och frågar dem om arbete. Personerna vi ringer är 15–74 år. Vi frågar till exempel personerna om de har jobb eller inte har jobb och om de söker jobb. I framtiden kanske det är du som blir uppringd av SCB.

### Arbetslösa i statistiken från SCB är:

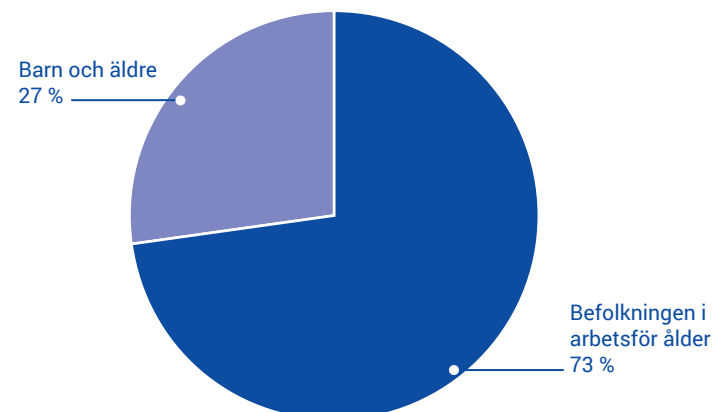
- Personer som kan arbeta och söker arbete, men inte har ett jobb.
- Personer som ska börja arbeta inom tre månader, men kan börja arbeta tidigare.

### Sysselsatta i statistiken från SCB är:

- Personer som har arbetat en timme eller mer den vecka som SCB ställer frågor om.
- Personer som är hemma från jobbet och är sjuka, har semester eller är föräldralediga.

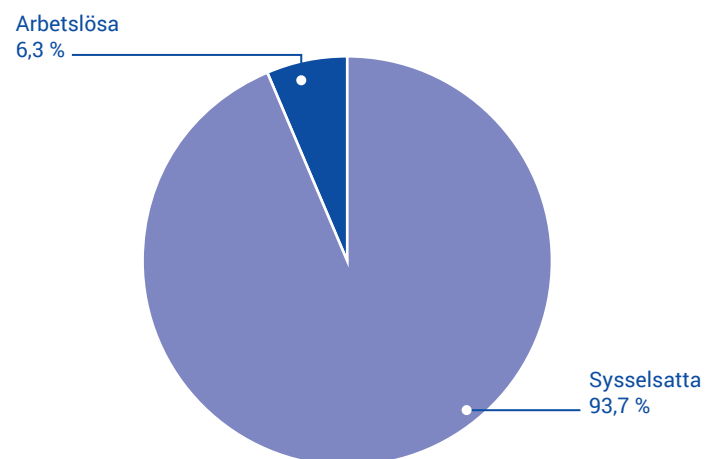
### Befolkningen i arbetsför ålder

Av befolkningen på 10 miljoner är 73 procent eller 7 460 800 personer i arbetsför ålder (15–74 år).



### Arbetslösa och sysselsatta

På arbetsmarknaden är 344 100 personer eller 6,3 procent arbetslösa. De som jobbar/sysselsatta är 5 112 800 personer.



## Handel

### Handel av varor

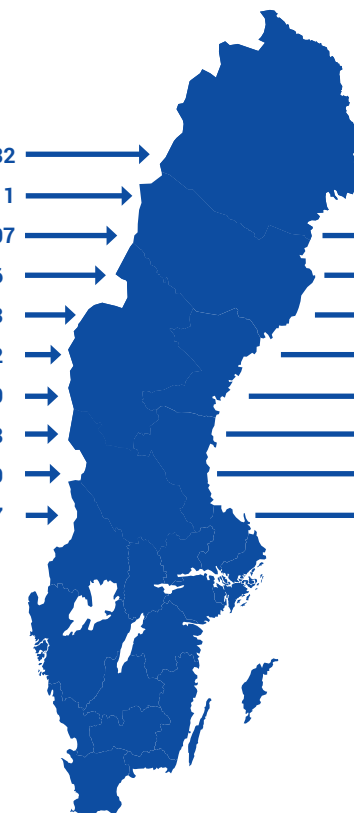
Sverige köper varor från andra länder. Kläder, skor och olja är exempel på varor vi importerar. Sverige säljer också varor till andra länder. Bilar, läkemedel och papper är exempel på varor vi exporterar. Den mesta handeln är med länder i Europa. Sverige importerade mycket från Tyskland. Vi importerade även från Danmark, Nederländerna, Norge och Storbritannien. Tyskland och Norge var de länder Sverige exporterade mest varor till.

### Import (i miljarder kronor)

Tyskland	232
Nederländerna	111
Norge	107
Danmark	86
Storbritannien	63
Belgien	62
Kina	60
Finland	58
Frankrike	49
Polen	47

### Export (i miljarder kronor)

Tyskland	139
Norge	133
USA	90
Finland	87
Danmark	86
Storbritannien	80
Nederländerna	70
Kina	59
Belgien	56
Frankrike	5



### Import 2018

**2 093**  
miljarder kronor


### Export 2018

**2 193**  
miljarder kronor



# Så här mycket frukt och godis köper vi

Vi köper frukt för i genomsnitt 29 kronor per person i veckan och köper godis för 42 kronor.



## Övningar

### 1. Grammatik

Skriv verben i då-tid (preteritum).

- Många länder (behöver) ..... bygga nya hus efter andra världskriget.
- Svensk industri (producerar) ..... maskiner till flera länder i Europa.
- På 1970-talet (bli) ..... priset på olja dyrare.
- Sverige (får) ..... en ekonomisk kris och BNP (minskar) .....
- Krisen (gör) ..... att utländska investerare (väljer) ..... att investera i andra länder än Sverige.
- På 2000-talet (lånar) ..... banker, länder och människor pengar.
- De (har) ..... höga skulder.
- På 2010-talet (blir) ..... Sveriges ekonomi bättre under flera år.

### 2. Sant eller falskt?

Skriv S (sant) eller F (falskt) efter meningens.

- BNP växte med i genomsnitt 25 procent per år 1960–1965.
- En ekonomisk kris på 1970-talet gjorde att BNP minskade.
- Den ekonomiska krisen gjorde att många investerade i Sverige.
- I många länder blev det en ekonomisk kris på 2000-talet.
- Sveriges ekonomi blev bättre efter krisen på 2000-talet.

### 3. Sant eller falskt?

Skriv S (sant) eller F (falskt) efter meningens.

- SCB ringer till alla arbetslösa i Sverige.
- SCB ringer till drygt 29 000 personer varje månad.
- Personerna SCB ringer och frågar om arbete är över 18 år.
- I statistiken kallas de som arbetar för sysselsatta.
- I statistiken kallas de för arbetslösa som ska börja arbeta inom tre månader, men kan börja tidigare.



## Övningar

### 4. Grammatik

Svara vilken ordklass det understrukna ordet tillhör (adjektiv, substantiv eller verb).

- A. SCB mäter hur många i Sverige som är arbetslösa.
- B. SCB ringer till tusentals personer varje månad och frågar om arbete.
- C. SCB frågar personerna om de har jobb, inte har jobb eller om de söker jobb.
- D. En del arbetslösa personer ska börja jobba om tre månader.
- E. En del personer har arbete, men är hemma från jobbet och är föräldralediga.

### 5. Sant eller falskt?

Skriv S (sant) eller F (falskt) efter meningens.

- A. Siffrorna visar importen i miljoner kronor per år.
- B. Sverige importerade de flesta varorna från Europa.
- C. Sverige exporterade de flesta varorna till Kina.
- D. Sverige importerade mer från Norge än från Finland.
- E. Sverige importerade mer varor än vi exporterade.

### 6. Berätta och diskutera

Fråga och svara varandra i par. Svara vad du tror, vet eller tycker.

- Blev du förvånad över något i statistiken?
- Hur mycket köper du frukt för i veckan? Är det mer eller mindre än genomsnittet?
- Hur mycket köper du godis för i veckan? Är det mer eller mindre än genomsnittet?

## Facit

### SCB beskriver Sverige med statistik

- 1. Sant eller falskt
  - A. Sant
  - B. Falskt
  - C. Falskt
  - D. Falskt
  - E. Sant

### 3. Ordkunskap

- A. SCB
- B. siffror, tabeller eller diagram
- C. frågor
- D. diagram och tabeller (eller: tabeller och diagram) eller siffror
- E. tystnadsplikt

### Människorna i Sverige

- 1. Grammatik
  - A. började
  - B. bodde
  - C. dog
  - D. minskade
  - E. hade
  - F. levde
  - G. fick
  - H. föddes
  - I. hade
  - J. ökade

### 2. Sant eller falskt?

- A. Sant
- B. Falskt
- C. Falskt
- D. Sant
- E. Sant

### 4. Sant eller falskt?

- A. Falskt
- B. Falskt
- C. Sant
- D. Sant

### 5. Grammatik

- A. Substantiv
- B. Verb
- C. Adjektiv
- D. Substantiv
- E. Verb

### Utbildning, jobb och pengar

#### 1. Sant eller falskt

- A. Sant
- B. Falskt
- C. Sant
- D. Sant

### 3. Ordkunskap

- A. undersköterska
- B. barnskötare
- C. företagssäljare
- D. lagerpersonal
- E. grundskollärare

### 5. Sant eller falskt?

- A. Sant
- B. Falskt
- C. Falskt
- D. Falskt
- E. Sant

### Samhällets ekonomi

#### 1. Grammatik

- A. behövde
- B. producerade
- C. blev
- D. fick, minskade
- E. gjorde, valde
- F. lånade
- G. hade
- H. blev

#### 2. Sant eller falskt?

- A. Falskt
- B. Sant
- C. Falskt
- D. Sant
- E. Sant

#### 3. Sant eller falskt?

- A. Falskt
- B. Sant
- C. Falskt
- D. Sant
- E. Sant

#### 4. Grammatik

- A. Adjektiv
- B. Substantiv
- C. Verb
- D. Substantiv
- E. Adjektiv

#### 5. Sant eller falskt?

- A. Falskt
- B. Sant
- C. Falskt
- D. Sant
- E. Falskt

## **Sverige i siffror**

I det här häftet får du veta mer om Sverige med hjälp av statistik och siffror från den svenska statistikmyndigheten SCB. Häftet är för dig som läser SFI (Svenska för invandrare). Till varje avsnitt finns olika övningar. Längst bak i häftet hittar du de rätta svaren. Trevlig läsning!

